

# الجمهورية التعليمية

الجغرافيا .. ثلاثة ثانوى  
«مراجعة ليلة الامتحان»

س ٩٣- تضم الكوميسا كثير من الدول التي تعاني

صعوبة الاتصال بالعالم الخارجي منها :

- أ) مالي والنيجر ب) أريتريا وأثيوبيا  
ج) كينيا وأوغندا د) زامبيا وزيمبابوي

س ٩٤- يتمثل الهدف السياسي من قيام التكتلات الاقتصادية في

- أ) الاستفادة من المراكز البحثية  
ب) الحصول على مزايا الإنتاج الكبير  
ج) رفع مستوى رفاهية المواطنين  
د) تخفيف أثر الصدمات الخارجية

س ٩٥- باستخدام الخريطة أكثر اللغات انتشارا في سويسرا.....



- أ) الألمانية ب) الفرنسية  
ج) الرومنشية د) الإيطالية

س ٩٦- شهدت أي الدول الآتية تحسنا في اسهام المرأة في دفع عجلة التنمية...

- أ) نيجيريا ب) زامبيا ج) غانا د) المغرب

س ٩٧- يفتقر مجلس التعاون لدول الخليج العربي لبعض المقومات

- أ) تقارب المستوى التكنولوجي  
ب) تشابه الخصائص الثقافية  
ج) تنوع الموارد الاقتصادية  
د) توفر المقومات الجغرافية

س ٩٨- تصنف المناطق الشمالية من مصر قبل تخطيطها مع قبرص واليونان بأنها مناطق ....

- أ) حدودية ب) هامشية ج) نزاع د) استراتيجية

س ٩٩- الحدود السياسية بين الولايات المتحدة وكندا في الجزء الشرقي منها تعد حدودا

- أ) هندسية ب) اتوغرافية  
ج) طبيعية د) فلكية

س ١٠٠- بالاستعانة بخريطة الولايات المتحدة الأمريكية استنتج أي الحدود الآتية ينعدم وجودها بين الولايات المتحدة والدول المجاورة لها الحدود ....



- أ) النهرية والجبلية ب) البحيرية والبحرية  
ج) الهندسية والفلكية د) اللغوية والدينية

س ٦٩- ترتبط الجغرافيا السياسية بغيرها من العلوم الأخرى في ضوء العبارة أجب ؟ يستطيع الباحث في الجغرافيا السياسية تقديم تحليلًا للحاضر وتصور أفضل للمستقبل من خلال الربط بين ...

- أ) الجغرافيا السياسية وعلم الجيوبولوتيك
- ب) الجغرافيا السياسية والجغرافيا العامة
- ج) الجغرافيا السياسية وعلم التاريخ
- د) الجغرافيا السياسية وعلم السياسة

س ٧٠- تعد العولمة هي الوجه الآخر ل.....

- أ) التطور والتعاون
- ب) الجيوبولوتيك
- ج) الجغرافيا السياسية
- د) فن الإنتاج

س ٧١- أي مما يلي يعبر عن مفهوم النظام السياسي في صورته المؤسسية .....

- أ) الانضمام للتكتلات الاقتصادية
- ب) إنشاء محطات تحلية مياه البحر
- ج) الاستزراع السمكي
- د) تطوير العشويات

س ٧٢- نيوزيلاند دولة بحرية الاحتكاك الحضاري لها مع دول العالم يشبه دولة .....

- أ) جيبوتي
- ب) هولندا
- ج) ماليزيا
- د) تشاد

س ٧٣- ادرس خريطة الاتحاد الاوروبي وأجب دولة الدنمارك تشبه في الشكل أي الدول الآتية

- أ) الولايات المتحدة الأمريكية
- ب) إيطاليا
- ج) المملكة المتحدة البريطانية
- د) مالطة

س ٧٤- تنوع مناخ الدولة يرتبط بأفكار أي من العلماء

- أ) ابن خلدون
- ب) كلين
- ج) راتزل
- د) سيجفريد

س ٧٥- السلطة التنفيذية يمكن أن تجمع بين اتجاهات فكرية مختلفة في أي أنظمة الحكم التالية

- أ) النظام شبه الرئاسي
- ب) النظام الرئاسي
- ج) النظام البرلماني
- د) النظام الدكتاتوري

س ٧٦- أي المنظمات الآتية هدفها تضيق الفجوة بين الدول النامية والدول المتقدمة

- أ) منظمة الأمم المتحدة للتنمية الصناعية
- ب) منظمة الأغذية والزراعة
- ج) صندوق النقد الدولي
- د) مركز التجارة الدولي



س ٦١ - التغيير الديموجرافي لسكان بعض الدول أدى إلى ....

- أ) تعرض بعض مناطق الرعي لنفوق حيواناتها.
- ب) تحصيل الضرائب من الرعاة.
- ج) تناقص مساحة المراعي.
- د) زيادة مساحة المراعي.

س ٦٢ - يحدث الصراع الآن على مصادر الطاقة الحضرية بسبب ....

- أ) صعوبة نقلها.
- ب) ارتفاع أسعارها.
- ج) تزايد كمية الاحتياطي.
- د) طبيعة تكوينها

س ٦٣ - تختص بعض المؤسسات بالقضاء على المجاعات ومنها ....

- أ) اليونيدو
- ب) الفاو.
- ج) أوبك الدولي للإنشاء والتعمير.
- د) صندوق النقد الدولي.

س ٦٤ - ارتبط ظهور الأقليات القومية في شمال قارة آسيا بـ ...

- أ) انتهاء الصراع الأيدولوجي.
- ب) انقسام ألمانيا الاتحادية
- ج) الحروب العالمية.
- د) ثورة الاتصالات الحديثة.

س ٦٥ - نتج عن تطور خريطة العالم السياسية في أواخر القرن العشرين ظهور ..

- أ) الأقلية الصربية في البوسنة ..
- ب) الأقلية الكردية في العراق.
- ج) الأقلية الزنجية في الولايات المتحدة الأمريكية.
- د) الباسك في إسبانيا.

س ٦٦ - تتشابه دول الخليج العربي ودول الاتحاد الأوروبي في كونهما

- أ) مناطق جذب للهجرات القانونية وغير القانونية.
- ب) منابع للهجرات غير الشرعية.
- ج) مناطق ذات كثافة سكانية قليلة.
- د) مناطق طاردة للسكان.

س ٦٧ - أي الدول الآتية رسمت حدودها الشمالية والجنوبية مع خط اقتسام سطح المجري

- أ) فرنسا
- ب) ألمانيا
- ج) الولايات المتحدة الأمريكية
- د) شيلي

س ٦٨ - يقع مقر حلف شمال الأطلسي في دولة ذات طابع

- أ) جبلي
- ب) سهلي
- ج) متتمة التضاريس
- د) دولة مجزأة

س ٣٣ - عندما ترغب مصر في إقامة مشروع اقتصادي بالصحراء أي التقنيات الحديثة تعتمد عليها

- ١ الاستشعار من بعد  
٢ نظم المعلومات  
٣ تكنولوجيا المعلومات  
٤ نظام تحديد المواقع

س ٣٤ - أي الدول الآتية اعتبرت العالم بأثره مجالها الجوي بداية العقد الأخير من القرن العشرين

- ١ الاتحاد السوفيتي  
٢ ألمانيا  
٣ الولايات المتحدة الأمريكية  
٤ بريطانيا

س ٣٥ - يخرج أي مما يأتي عن شروط الأمة .....

- ١ القوة المورفولوجية  
٢ القوة الديموغرافية  
٣ القوة الانثوغرافية  
٤ القوة التنظيمية

س ٣٦ - لاحظ الخريطة وأجب أي التكتلات الاقتصادية تغلو من الدول الحدودية



- ١ الاتحاد الأوروبي  
٢ الكوميسا  
٣ النافتا  
٤ اتحاد المغرب العربي


س ٣٧ - التقنيات الحديثة قللت أهمية اختيار العاصمة على أساس

- ١ الحماية والدفاع  
٢ السيادة القومية  
٣ العامل الحضاري  
٤ العامل التاريخي

س ٣٨ - تتساوى الدول ذات المساحة الكبيرة والصغيرة في

- ١ ظهور حركات التمرد الانفصالية  
٢ عقد تحالفات مع الدول الكبرى  
٣ التأثر بالكوارث الطبيعية  
٤ التمثيل الدبلوماسي

س ٣٩ - المواقع الاستراتيجية تتأثر سلبا وإيجاباً بعدة عوامل في ضوء ذلك ادرس الخريطة وأجب رغم الموقع الهامشي لليابان وكوريا ذات أهمية مضيق كوريا وتسوشيما التجارية بسبب ....



- ١ ظهور البترول والغاز بالمضائق  
٢ وفرة المواد الخام المعدنية  
٣ وفرة المنتجات الزراعية  
٤ وفرة الانتاج الصناعي

س ٤٠ - لاحظ خريطة زامبيا وأجب: أقرب دول غرب أفريقيا لها من حيث الشكل هي



- ١ موريتانيا  
٢ نيجيريا  
٣ مالي  
٤ ليبيريا

س ٤١ - أي الجزر الآتية يستطيع الحاكم المحلي بها اتخاذ قرارات خاصة بالتعليم

- ١ جزيرة كورسيكا  
٢ جزيرة تسمانيا  
٣ هوكايدو  
٤ هونشو

س ٤٢ - تتشابه قطر والبحرين وكندا في أي مما يأتي ....

- ١ القوة المورفولوجية  
٢ القوة الديموغرافية  
٣ النشاط الصناعي

س ٤٣ - حل الجدول الذي أمامك وأجب أي الدول بالجدول حجمها السكاني كان سببا في ريادتها سياسيا واقتصاديا

| الترتيب | المنطقة / الدولة | عدد السكان    |
|---------|------------------|---------------|
| ١       | ألمانيا          | 7,174,611,584 |
| 2       | الصين            | 1,355,692,576 |
| 3       | الهند            | 1,236,344,631 |
| 4       | الولايات المتحدة | 318,892,103   |
| 5       | تونس             | 253,609,643   |
| 6       | البرازيل         | 202,656,788   |
| 7       | باكستان          | 196,174,380   |
| 8       | نيجيريا          | 177,155,754   |
| 9       | بنغلاديش         | 166,380,712   |
| 10      | روسيا            | 142,470,272   |

( ٢ ) ( ٨ ) ( ٣ )

( ١ ) ( ٤ ) ( ١٠ )

( ٢ ) ( ٤ ) ( ١٠ )

( ٦ ) ( ٧ ) ( ٣ )

س ٤٤ - يعد الاكتفاء الذاتي في مجال الثروات المعدنية أمراً .....

- ١ بعيد المنال مهما بلغت مساحة الدولة  
٢ يسهل تحقيقه في الدول ذات المساحة الكبيرة  
٣ يتحقق في الدول صغيرة المساحة  
٤ يتحقق في الدول ذات الحجم السكاني القليل

س ٤٥ - يعبر عن مفهوم النظام السياسي في صورته المجتمعية .....

- ١ إقامة مشروعات اقتصادية  
٢ الإعلانات الدستورية  
٣ ترسيم الحدود السياسية  
٤ عمل الحساب الختامي


س ٤٦ - المعركة الانتخابية أول خطوة للوصول للحكم في الدول ..

- ١ الديمقراطية  
٢ الديكتاتورية  
٣ الملكية  
٤ الاستبدادية

س ٤٧ - حملت الأمم المتحدة في ثنائيا عوامل ضعفها تمثل ذلك الضعف في ...

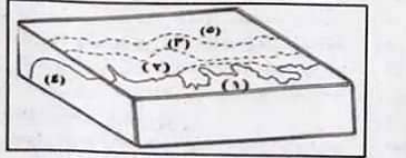
- ١ مجلس الأمن  
٢ مجلس الوصايا  
٣ الامانة العامة  
٤ الجمعية العمومية

س ٤٨ - نستنتج من الهرم السكاني لمصر



- ١ توازن التركيب النوعي  
٢ انخفاض معدل الاعالة  
٣ القضاء على الأمية  
٤ القضاء على البطالة

س ٤٩ - أمامك شكل تخطيطي لأنواع المناطق المائية أي من الأرقام الموضحة في الشكل تستطيع الدولة عمل إجراءات من الرقابة والتفتيش الجمركي والصحي



- ١ ٣ و ٤  
٢ ١ و ٢ و ٤  
٣ ١ و ٢ و ٤  
٤ ١ و ٢ و ٤

س ٥٠ - أي الألوان على الخريطة يوضح التباين الديموغرافي بين دول الاتحاد الأوروبي الدول ذات اللون



- ١ الأحمر والأبيض  
٢ الأصفر والأحمر  
٣ الأصفر والأخضر  
٤ الأصفر والأزرق



س ٧٦ - أي المنظمات الآتية هدفها تضيق الفجوة بين الدول النامية والدول المتقدمة

- أ) منظمة الأمم المتحدة للتنمية الصناعية
- ب) منظمة الأغذية والزراعة
- ج) صندوق النقد الدولي
- د) مركز التجارة الدولي

س ٧٧ - أمامك خريطة لاهم المضائق والممرات الملاحية العالمية موضح عليها نسب العبور التجاري لكل مضيق ادرسها ثم أجب تاتي قناة السويس حسب أهمية العبور في ..



- أ) المركز الرابع عالميا والثاني أفريقيا
- ب) المركز الرابع عالميا والاول أفريقيا
- ج) المركز الثالث عالميا والثاني أفريقيا
- د) المركز الخامس عالميا والثالث أفريقيا

س ٧٨ - ساهم مجلس أعمال الكوميسا في .....

- أ) تقليل معدل الاعالة
- ب) المشاركة الفعالة للقطاع العام
- ج) إصدار تقارير الفرص الاستثمارية
- د) جعل الكوميسا جاذبة للاستثمار

س ٧٩ - تبدأ الدول في تحقيق الحماية الصحية لشعبها من المياه .....

- أ) الداخلية
- ب) التكميلية
- ج) المحايدة
- د) اقليمية

س ٨٠ - هناك حدود فرضت على الدول دون مراعاة لاختلاف الدين أو اللغة أو الحضارة مثل تلك الحدود تظهر في قارة أفريقيا بشكل كبير في الجانب ..

- أ) الشرقي
- ب) الجنوبي
- ج) الشمالي
- د) الغربي

س ٨١ - المنظمات الدولية وليدة .....

- أ) التعاون والتضامن
- ب) الحروب والصراعات
- ج) الامن والسلام
- د) السياسة والاقتصاد

س ٨٢ - إذا خرجت سفينة تجارية من ميناء توسوشيما الياباني متجه إلى ميناء ينبع السعودي على البحر الأحمر من خلال الخريطة وضح أي المواقع الاستراتيجية الآتية تمر بها



- أ) مضيق هرمز وقناة السويس
- ب) مضيق ملقا ومضيق هرمز
- ج) مضيق ملقا ومضيق باب المندب
- د) مضيق هرمز ومضيق باب المندب

س ٨٣ - تعد الكونغو البرازيل واندونيسيا دول مصدرة للأخشاب يرجع ذلك

- أ) الموقع الجغرافي
- ب) الموقع الفلكي
- ج) الموقع البحري
- د) الموقع المركزي

س ٨٤ - يرجع ارتفاع الكثافة السكانية في معظم الدول النامية إلى .....

- أ) الإيدولوجي
- ب) الطبوغرافي

س ٨٥- يؤثر في قدرة الدولة الإنتاجية وخطط التنمية المستقبلية .....

- ١) التركيب النوعي ٢) التركيب العمري  
٣) التركيب الاقتصادي ٤) التركيب السياسي

س ٨٦- ترتبط العملية الانتخابية بتحقيق نوع من التوازن بين الدوائر الانتخابية والناحية

- ١) الديموجرافية. ٢) الإثنوغرافية.  
٣) العسكرية. ٤) الاقتصادية

س ٨٧- يظهر الاختلاف الحقيقي بين الجغرافيا السياسية والجيوبوليتيك بالنسبة للدولة في طبيعة دراسة ....

- ١) الحدود السياسية. ٢) المقومات الجغرافية.  
٣) عناصر القوة والضعف. ٤) القوة التنظيمية.

س ٨٨- يتم دراسة البعد الجغرافي على المستوى المحلي في مناورات الساسة وصولاً للسلطة عن طريق .....

- ١) التحليل السياسي للقوة. ٢) التحليل الجغرافي للقوة.  
٣) النظام السياسي. ٤) جغرافية الانتخابات

س ٨٩- أي الدول الآتية تعد الأكثر استقراراً من حيث حركة سكانها .....

- ١) الجزائر ٢) البحرين ٣) المغرب ٤) السودان

س ٩٠- يمتلك مجلس الأمن سلطة إرسال القوات لمناطق التوتر في العالم وهو بذلك يشبه أحد أجهزة الاتحاد الأوروبي .

- ١) المفوضية الأوروبية ٢) المجلس الأعلى  
٣) مجلس الاتحاد ٤) البرلمان الأوروبي

س ٩١- الخريطة التالية لتكتل البريكس الاقتصادي يفتقد التكتل لأي مما يأتي من مقومات قيام التكتل ....



- ١) المقومات الجغرافية  
٢) المقومات الاقتصادية  
٣) المقومات البشرية والتكنولوجية  
٤) المقومات العسكرية

س ٩٢- باستخدام الخريطة تتشابه الدولتان في أي مما يأتي





س ١ - تعرضت دولة مالطة في القرن ١٨ لوباء الكوليرا الذي قضى على سكانها يرجع ذلك

- ١ المساحة (ب) الشكل  
٢ السهول (د) الجبال

س ٢ - تجمع بين مناقضين حسب آراء كلين دولة .

- ١ هولندا (ب) اليابان  
٢ البرازيل (د) سويسرا

س ٣ - يصدر عن النظام السياسي في صورته المؤسسية ...

- ١ إنشاء وحدات الإسكان  
٢ عمل التأمين الصحي  
٣ الإعلانات الدستورية  
٤ البحث والتغلب عن مصادر الطاقة

س ٤ - يبدأ النظام الانتخابي بأي الإجراءات الآتية

- ١ دراسة التباين المكاني في التصويت  
٢ دراسة السلوك الانتخابي للناخبين  
٣ توزيع الدوائر الانتخابية  
٤ الترشح للانتخابات

س ٥ - أقدم الدول التي عرفت الحدود السياسية تقع في

- ١ شمال أوروبا (ب) جنوب إفريقيا  
٢ غرب أمريكا الشمالية (د) شرق آسيا

س ٦ - التظوم لها أهمية إستراتيجية حيث تمثل منطقة دفاعية لحماية الدولة من الاعتداءات وذلك

- ١ كما طول وعرض (ب) ليس لها أساس قانوني  
٢ قابلية للحركة والنقل (د) غنية بالموارد الطبيعية

س ٧ - تعد دولة كينيا هي الأقل مساحة على بحيرة فيكتوريا يرجع ذلك إلى

- ١ الحروب (ب) المعاهدات المبرمة  
٢ تنمية المناطق الهامشية (د) زيادة السكان

س ٨ - ارتبطت بداية مراحل تخطيط الحد السياسي بـ

- ١ المناطق الهامشية (ب) المناطق الممورة  
٢ مناطق الحروب (د) المناطق نادرة السكان

س ٩ - تتشابه الحدود الجبلية والهندسية في ...

- ١ ندرة السكان (ب) الثبات  
٢ درجة الفصل (د) الشكل

س ١٠ - بالاستعانة بالخريطة المقابلة استنتج جبال كيولن بين السويد والنرويج حد سياسي فاصل بينهما تشبه في الامتداد الحد السياسي بين أي من الدول الآتية



- ١ فرنسا وإسبانيا (ب) الولايات المتحدة الأمريكية والمكسيك  
٢ فرنسا وألمانيا (د) الأرجنتين وشيلي

س ١١ - من خلال الخريطة التي أمامك وضع تشبه أوغندا سويسرا في أي مما يأتي



- ١ الحدود البحرية والموقع الجغرافي (ب) الموقع الفلكي والمظهر التضاريسي  
٢ المناخ والنبات الطبيعي (د) التقدم العلمي والتكنولوجي

س ١٢ - أي الخطوط على الرسم يجب تحديده بدقة حتى لا يحدث نزاعات مع كل دول العالم



- ١ الخط بين المنطقة ٣ و ٢ (ب) الخط بين المنطقة ٣ و ١  
٢ الخط بين المنطقة ٢ و ١ (د) الخط بين المنطقة ٢ و ٤

س ١٣ - انتهى العمل بالخريطة التي أمامك بعد انتهاء ...



- ١ الحرب الباردة (ب) الحرب العالمية الثانية  
٢ الحرب العالمية الأولى (د) حرب القرم

س ١٤ - أثبتت ثورة ٢٥ يناير في مصر أهمية ..

- ١ التقدم الصناعي (ب) تكنولوجيا الاتصالات  
٢ تطوير التعليم (د) النشاط السياحي

س ١٥ - مضيق يظهر به مشكلات سياسية ترجع جذورها الي القرن ١٥ هو مضيق

- ١ جبل طارق (ب) هرمز  
٢ سقيفة (د) باب المندب

س ١٦ - تزامن سقوط الكتلة الشرقية مع ظهور ..

- ١ الكوميسا (ب) دول عدم الانحياز  
٢ عمليات المسح الميداني (د) الاتحاد الأوروبي

س ١٧ - يعاني مجلس التعاون لدول الخليج العربي من ..

- ١ اتساع المساحة (ب) حجم السكان  
٢ قلة الإنتاج (د) الاتصال الأرضي

س ١٨ - حلف عسكري بعد حله انضم معظم أعضائه لحلف مناهض ..

- ١ حلف جنوب شرق آسيا (ب) الحلف المركزي  
٢ حلف الناتو (د) حلف وارسو

س ١٩ - المدن التي تم بها توقيع ميثاق الأمم المتحدة وحلف الناتو تنتمي لدول ..

- ١ اتحاد فيدرالي (ب) كونفيدرالية  
٢ وحدوية (د) برلمانية

س ٢٠ - تتعدد العوامل التي أثرت على تغير الحدود في العالم ، في ضوء تلك العبارة وضع العامل الذي أدى إلى وضع الحدود في إفريقيا هو ..

- ١ القوى الخارجية (ب) العامل الطبيعي  
٢ العامل الديسجراي (د) العامل الاقتصادي

س ٢١ - لاحظ الخريطة جيدا وأجب ، العاصمة فيينا تشبه أي العواصم الآتية ..



- ١ الخرطوم (ب) الرياض (د) أنقرة

س ٢٢ - أمامك خريطة لدول الاتحاد الأوروبي ادرسها جيدا ثم اجب ماهي أحدث الدول المنضمة للاتحاد الأوروبي ..



- ١ كرواتيا (ب) بلغاريا (د) استونيا (د) رومانيا

س ٢٣ - باستخدام الخريطة الدولة المشار إليها توجد بها أقلية ..



- ١ قومية (ب) دينية (د) لغوية (د) عرقية

س ٢٤ - يشترك المجلس الوزاري لمجلس التعاون والمفوضية الأوروبية في ..

- ١ سلطة تنفيذية (ب) سن القوانين  
٢ سلطة عليا (د) ينتخبان من قبل الشعوب

س ٢٥ - أي الدول الآتية كانت سببا في تغيير مسار الحرب العالمية الثانية ..



- ١ (ب) (د) (د) (د)

س ٢٦ - التكتل الاقتصادي الناجح يحتاج إلى دعم ..

- ١ مالي (ب) سياسي (د) عسكري (د) اقتصادي

س ٢٧ - رفض الاتحاد الأوروبي طلب تركيا للانضمام إليه لأسباب ..

- ١ سياسية وتشريعية (ب) اقتصادية ودينية  
٢ إدارية واجتماعية (د) إيديولوجية وعسكرية

س ٢٨ - في أزمة سد النهضة الإثيوبي يمكن أن نجد أن التكتل الأقرب للمساعدة في حل المشكلة

- ١ الجامعة العربية (ب) مجلس التعاون الخليجي  
٢ اتحاد الكوميسا (د) النافتا

س ٢٩ - انتشار القوض الصراعات داخل أفغانستان يمكن دراسته من خلال أي المجالات الآتية

- ١ التحليل السياسي للقوة (ب) النظام العالمي الجديد  
٢ الدولة (د) العلاقات الدولية

س ٣٠ - تعبر الصورة التي أمامك عن ..



- ١ التداول السلمي للسلطة (ب) الفصل بين السلطات  
٢ نظام الملك (د) النظام السياسي في صورته المجتمعية

س ٣١ - إذا تم اقتطاع الجبهة الساحلية لدولة غامبيا فإن السيفال ستشبه دولة ..



- ١ بنجلادش (ب) جنوب أفريقيا  
٢ ليسوتو (د) سويسرا

س ٣٢ - لتحديد حدود منطقتي القطارة للصحراء الغربية يتم الاعتماد على إحدى التقنيات وهي

- ١ الاستشعار من بعد (ب) نظم المعلومات  
٢ اتصالات (د) تكنولوجيا



س ٥١ - أي مما يأتي على الخريطة يشير إلى مقر  
مفوضية المنافسة بالكوميسا



١- (أ) ٢- (ب) ٣- (ج) ٤- (د)

س ٥٢ - تتشابه الحدود الجبلية والهندسية في....

- ١ (أ) الخصائص الديموغرافية (ب) الثبات  
٢ (ج) الشكل (د) درجة الفصل

س ٥٣ - شهدت أي الدول الآتية نزوح هجرات  
إجبارية للسكان لأسباب مناخية

- ١ (أ) السنغال ومالي والنيجر  
٢ (ب) مصر والسودان وليبيا  
٣ (ج) كندا والمكسيك والولايات المتحدة  
٤ (د) كوريا والصين والهند

س ٥٤ - أكثر الأسباب التي أدت لسقوط الاتحاد السوفيتي أسباب

- ١ (أ) عسكرية (ب) سياسية  
٢ (ج) اقتصادية (د) اجتماعية

س ٥٥ - يعد أي مما يلي من المقومات البشرية للتكتل  
الاقتصادي

- ١ (أ) العمالة ورأس المال (ب) الخصائص الثقافية  
٢ (ج) التنظيم السياسية (د) القوات العسكرية

س ٥٦ - المؤسسة المنوط بها المحافظة على الالتزامات  
الدولية داخل الاتحاد الأوروبي

- ١ (أ) المجلس الأوروبي (ب) البرلمان الأوروبي  
٢ (ج) مجلس الاتحاد الأوروبي (د) المفوضية الأوروبية

س ٥٧ - كانت التخوم في قارة أوروبا قديما مناطق

- ١ (أ) مأهولة بالسكان. (ب) خالية من الموارد.  
٢ (ج) غنية بالنبات الطبيعي. (د) لها إطار قانوني.

س ٥٨ - تختلف الحدود البحرية عن الحدود البرية  
في....

- ١ (أ) الحماية والأمن. (ب) عدد الدول المتنافسة.  
٢ (ج) الأهمية السياسية. (د) الأهمية الاقتصادية.

س ٥٩ - تخلف مصر من الحدود.....

- ١ (أ) الفلكية البحتة. (ب) الحضارية.  
٢ (ج) الهندسية. (د) الطبيعية.

س ٦٠ - أي مما يلي يؤثر على حرية اتخاذ القرار في  
العديد من الدول؟.....

- ١ (أ) العملة وصندوق النقد الدولي  
٢ (ب) ثورة الاتصالات الحديثة.  
٣ (ج) الفهم (د) الثبات الطبيعي

# الجمهورية التعليمية

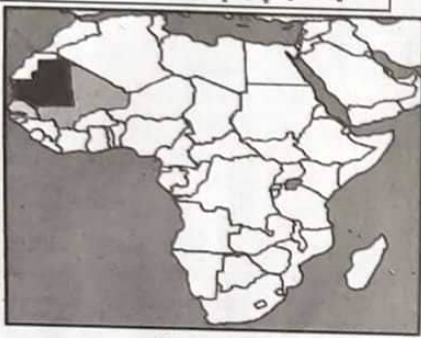
11



الثلاثاء ٢٨ من بوليه ٢٠٢٢

## الأخيرة

س ١١٢- الدول المظلة على الخريطة تشترك في اتفاقيات للرعي وهي



- أ) موريتانيا - بوركينا فاسو - السنغال
- ب) مالي - موريتانيا - السنغال
- ج) النيجر - السنغال - بوركينا فاسو
- د) موريتانيا - السنغال - غانا

## الإجابة

|    |   |    |   |     |   |
|----|---|----|---|-----|---|
| ١  | أ | ٤٣ | ج | ٨٥  | ب |
| ٢  | أ | ٤٤ | أ | ٨٦  | أ |
| ٣  | ج | ٤٥ | أ | ٨٧  | أ |
| ٤  | ج | ٤٦ | أ | ٨٨  | د |
| ٥  | د | ٤٧ | أ | ٨٩  | ب |
| ٦  | أ | ٤٨ | أ | ٩٠  | أ |
| ٧  | ب | ٤٩ | أ | ٩١  | أ |
| ٨  | ب | ٥٠ | أ | ٩٢  | ب |
| ٩  | أ | ٥١ | ب | ٩٣  | د |
| ١٠ | د | ٥٢ | أ | ٩٤  | د |
| ١١ | أ | ٥٣ | أ | ٩٥  | أ |
| ١٢ | أ | ٥٤ | ج | ٩٦  | ب |
| ١٣ | أ | ٥٥ | ب | ٩٧  | ج |
| ١٤ | ب | ٥٦ | د | ٩٨  | ب |
| ١٥ | أ | ٥٧ | ج | ٩٩  | ج |
| ١٦ | د | ٥٨ | ب | ١٠٠ | د |
| ١٧ | ب | ٥٩ | أ | ١٠١ | أ |
| ١٨ | أ | ٦٠ | أ | ١٠٢ | ب |
| ١٩ | د | ٦١ | ج | ١٠٣ | ب |
| ٢٠ | أ | ٦٢ | د | ١٠٤ | أ |
| ٢١ | أ | ٦٣ | ب | ١٠٥ | أ |
| ٢٢ | أ | ٦٤ | أ | ١٠٦ | ب |
| ٢٣ | أ | ٦٥ | أ | ١٠٧ | د |
| ٢٤ | أ | ٦٦ | أ | ١٠٨ | ب |
| ٢٥ | ج | ٦٧ | ب | ١٠٩ | أ |
| ٢٦ | ج | ٦٨ | ب | ١١٠ | ب |
| ٢٧ | أ | ٦٩ | ج | ١١١ | ب |
| ٢٨ | ج | ٧٠ | ب | ١١٢ | ب |
| ٢٩ | ب | ٧١ | أ |     |   |
| ٣٠ | د | ٧٢ | د |     |   |
| ٣١ | ب | ٧٣ | ب |     |   |
| ٣٢ | أ | ٧٤ | ب |     |   |
| ٣٣ | أ | ٧٥ | أ |     |   |
| ٣٤ | ج | ٧٦ | أ |     |   |
| ٣٥ | د | ٧٧ | أ |     |   |
| ٣٦ | ج | ٧٨ | أ |     |   |
| ٣٧ | أ | ٧٩ | ب |     |   |
| ٣٨ | د | ٨٠ | د |     |   |
| ٣٩ | د | ٨١ | ب |     |   |
| ٤٠ | ب |    |   |     |   |
| ٤١ | ب |    |   |     |   |
| ٤٢ | ب |    |   |     |   |



- أ) غرب بحيرة سوبيريور
- ب) شرق بحيرة سوبيريور
- ج) غرب بحيرة التاريو
- د) شرق بحيرة التاريو

س ١٠٢- المياه الداخلية تقع في .....

- أ) خلف خط الساحل
- ب) أمام خط الساحل
- ج) خلف المنتصف
- د) خط العمق الملاحي

س ١٠٣- المنطقة الواقعة بين خط الساحل والحد السياسي البحري

- أ) مشروطة السيادة
- ب) سلطة الدولة فيها مطلقة
- ج) جزء من يابس الدولة
- د) تضم مصبات الانهار

س ١٠٤- أمامك شكل تخطيطي لأنواع المناطق المائية أي من الأرقام الموضحة في الشكل تستطيع الدولة عمل إجراءات من الرقابة والتفتيش الجمركي والصحي



- أ) ٣ و ٢
- ب) ٤ و ٣
- ج) ٤ و ١
- د) ٣ و ١

س ١٠٥- أي الدول التالية يمكن أن تدخل في نزاعات مع كل دول العالم بسبب موقعها.

- أ) قبرص
- ب) النمسا
- ج) أوغندا
- د) كازاخستان

س ١٠٦- المنطقة الواقعة أمام خط الساحل تسمى .....

- أ) البحر المفتوح
- ب) البحر الإقليمي
- ج) المياه التكميلية
- د) المياه الملاصقة

س ١٠٧- الأكثر تضررا من انهيار الاتحاد السوفيتي وحل حلف وارسو .....

- أ) الأمم المتحدة
- ب) حلف الناتو
- ج) الولايات المتحدة
- د) حركة عدم الانحياز

س ١٠٨- السبب وراء قانون تجديد إذن الإقامة الذي وضعته إسبانيا هو:

- أ) زيادة نصيب مواطني دولة إسبانيا
- ب) تصفية الوجود المغربي في سبتة ومليلة
- ج) الحد من تيار الهجرة غير الشرعية
- د) تنظيم حركة السكان من وإلى إسبانيا

س ١٠٩- يعد إقليم كشمير من الغرب والجنوب الغربي دولة



- أ) باكستان
- ب) أفغانستان
- ج) بنغلاديش
- د) باكستان

س ١١٠- يرجع تدخل الهند لمساعدة حاكم كشمير في القضاء على الثورة الداخلية لدوافع

- أ) سياسية
- ب) إثنوغرافية
- ج) ديموغرافية
- د) اقتصادية

س ١١١- الهجرة التي حدثت بغرب إفريقيا خلال السبعينات والثمانينات من

- أ) النزاعات الأهلية
- ب) تدهور النضار
- ج) النزاعات الدولية
- د) الهجرة القسرية