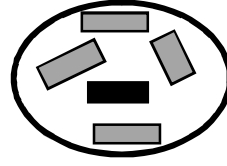
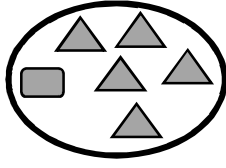


.....	الأستاذ	المؤسسة
الأول ابتدائي	المستوى		لموسم الدراسي
.....	اسم المتعلم	التاريخ

فرض 1 في مكون الرياضيات

1. أَشْطَبُ الْعُنْصُرِ الدَّخِيلِ فِي كُلِّ مَجْمُوعَةٍ: (1.5ن)




2. أَلَا حِظُّ ثُمَّ أَلَوْنِ الْبِطَاقَةِ الْمُنَاسِبَةَ: (2ن)

الْقِطَطُ بِقَدَرِ الْفِرَّانِ

الْقِطَطُ أَكْثَرُ مِنَ الْفِرَّانِ


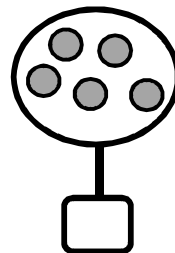
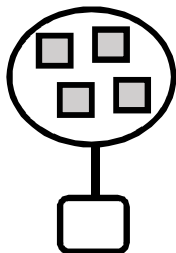
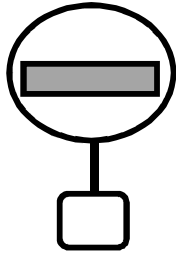
الْقِطَطُ أَقَلُّ مِنَ الْفِرَّانِ



3. أَكْتُبِ الْأَعْدَادَ 1، 2، 3، 4، 5 حَسَبِ النَّمُودَجِ: (2ن)

•	•	•	•	•	•	•	1	1	1
•	•	•	•	•	•	•	2	2	2
•	•	•	•	•	•	•	3	3	3
•	•	•	•	•	•	•	4	4	4
•	•	•	•	•	•	•	5	5	5

4. أَكْتُبِ الْعَدَدَ الْمُنَاسِبَ مَكَانَ النُّقْطِ: (2ن)



5. أَضَعْ الرَّمْزَ الْمُنَاسِبَ = أَوْ < أَوْ > مَكَانَ النُّقْطِ: (2.5ن)

1.....3

4.....4

1.....4

5.....3

2.....1