

أسئلة الخرائط

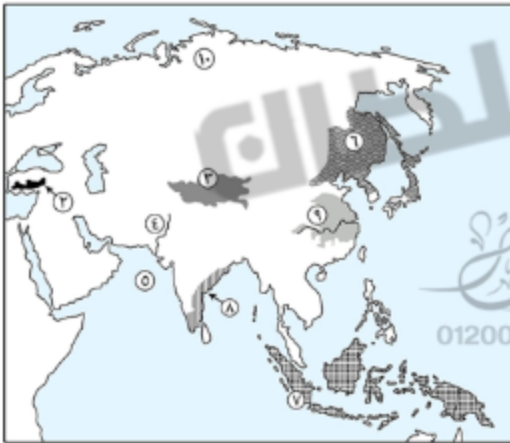
1

أمامك خريطة صماء للعالم، اكتب مدلول الأرقام الموجودة عليها:



- (١) هضبة .....
- (٢) نهر .....
- (٣) إقليم مناخي .....
- (٤) سلالة بشرية .....
- (٥) منطقة تركيز سكاني .....
- (٦) بحر مغلق .....

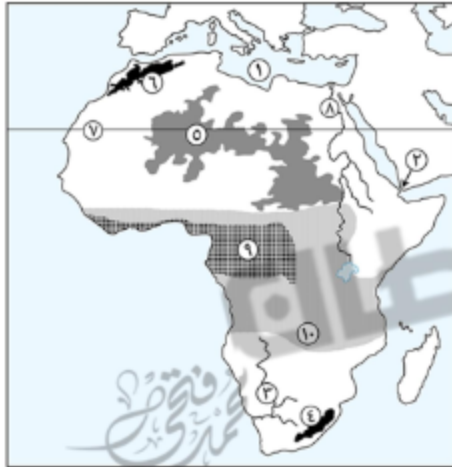
أمامك خريطة صماء لأحد قارات العالم، اكتب مدلول الأرقام الموجودة عليها:



- (١) قارة .....
- (٢) جبال .....
- (٣) هضبة .....
- (٤) نهر .....
- (٥) البحر .....
- (٦) إقليم مناخ .....
- (٧) إقليم مناخ .....
- (٨) السلالة .....
- (٩) منطقة تركيز سكاني .....
- (١٠) منطقة يقل بها السكان .....



أمامك خريطة صماء لقارة أفريقيا، اكتب مدلول الأرقام الموجودة عليها:



- ١) البحر .....
- ٢) مضيق .....
- ٣) نهر .....
- ٤) جبال .....
- ٥) هضبة .....
- ٦) جبال .....
- ٧) دائرة عرض .....
- ٨) منطقة تركيز سكاني .....
- ٩) إقليم مناخ .....
- ١٠) سلالة بشرية .....

أمامك خريطة صماء لقارة أوروبا، اكتب مدلول الأرقام الموجودة عليها:



- ١) جبال .....
- ٢) نهر .....
- ٣) هضبة .....
- ٤) السلالة البشرية الأكثر انتشاراً بالقارة .....
- ٥) جزيرة .....
- ٦) البحر .....
- ٧) البحر .....
- ٨) إقليم مناخ .....
- ٩) منطقة تركيز سكاني .....
- ١٠) منطقة يقل بها السكان .....

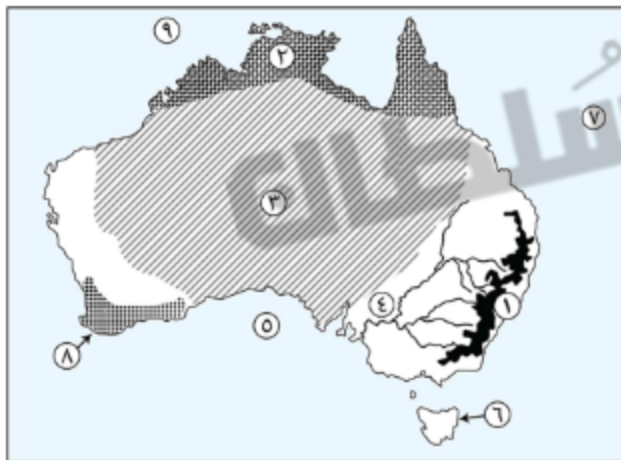
أمامك خريطة صماء للأمريكتين، اكتب مدلول الأرقام الموجودة عليها:



- (١) جبال .....
- (٢) نهر .....
- (٣) مضيق .....
- (٤) هضبة .....
- (٥) سلالة بشرية .....
- (٦) منطقة تركيز سكاني .....
- (٧) منطقة يقل بها السكان .....
- (٨) مسطح مائي .....
- (٩) إقليم مناخي .....

01200028345

أمامك خريطة صماء لقارة أستراليا، اكتب مدلول الأرقام الموجودة عليها:



- (١) جبال .....
- (٢) إقليم مناخي .....
- (٣) سلالة بشرية .....
- (٤) نهري .....
- (٥) مسطح مائي .....
- (٦) جزيرة .....
- (٧) المحيط .....
- (٨) إقليم مناخي .....
- (٩) بحر .....

## اختر الإجابة الصحيحة مما بين الأقواس

2

- ١) يقع البحر الكاريبي شمال قارة ..... (أستراليا - أمريكا الشمالية - أمريكا الجنوبية - أوروبا)
- ٢) أى من الأقاليم المناخية التالية من الأقاليم المعتدلة الدفيئة ..... (التندرا - غرب أوروبا - الصينى - اللورانسى)
- ٣) يتنمى سكان غرب ووسط أوروبا ..... (المجموعة الآلية - جماعة التنجوس - جماعة البوشمن - المجموعة النوردية)
- ٤) يقل عدد السكان في المناطق الشمالية من قارة أوروبا ومنها دولة ..... (بريطانيا - ألمانيا - فرنسا - النرويج)
- ٥) تمثل السلالة ..... نحو نصف سكان العالم. (الزنجة - المغولية - القوقازية - النقية)
- ٦) تفصل قارة أوروبا عن قارة آسيا جبال ..... (الألب - أوران - الهيمالايا - الأبالاش)
- ٧) يكاد يتلامس اليابس الأفريقى واليابس الأوروبى عند مضيق ..... (باب المندب - بيرنج - جبل طارق - الدردنيل)
- ٨) تكثر الجزر القريبة من السواحل بقارتى ..... (أفريقيا وآسيا - أفريقيا وأستراليا - آسيا وأوروبا - آسيا وأمريكا الجنوبية)
- ٩) يمر الدائرة القطبية الشمالية بكل من قارات آسيا وأمريكا الشمالية و..... (أفريقيا - أمريكا الجنوبية - أستراليا - أوروبا)
- ١٠) العامل الرئيسى الذى أدى إلى تعدد الأقاليم المناخية في قارة آسيا ..... (الموقع الفلكى - الموقع الجغرافى - التضاريس - كثرة الجزر)
- شبه جزيرة تصل بين قارتى آسيا وأفريقيا ..... (شبه جزيرة الملايو - شبه جزيرة سيناء - شبه الجزيرة العربية - شبه جزيرة البلقان)
- ١١) تطل قارة أمريكا الجنوبية على المحيط ..... من الشرق. (الهندي - الأطلنطي - الهادى - القطبى الشمالى)
- ١٢) يخفى الإقليم ..... من قارة آسيا بالرغم من توافر موقعه الفلكى. (اللورانسى - التندرا - الموسمى - غرب أوروبا)
- ١٣) يتساوى معدل الموالبد في قارتى ..... (أستراليا وآسيا - أستراليا وأفريقيا - أوروبا وأفريقيا - آسيا وأمريكا الجنوبية)
- ١٤) يتساوى معدل الوفيات في قارة ..... (آسيا - أستراليا - أوروبا - أفريقيا)
- ١٥) من السلاسل الجبلية الضخمة التى توجد في غرب آسيا جبال ..... (اليابان - الفلبين - زاجروس - الهيمالايا)
- ١٦) تنتمى جزيرة سولومون لقارة ..... (أستراليا - آسيا - أمريكا الجنوبية - أمريكا الشمالية)
- ١٧) تمتد جبال أطلس في ..... (شمال غرب أفريقيا - جنوب غرب آسيا - جنوب شرق أفريقيا - شمال شرق أفريقيا)
- ١٨) تنمو طحالب سريعاً في فصل ذوبان الجليد في إقليم ..... (التندرا - الجبل - الاستوائى - السودانى)
- ١٩) من الدول ذات الدخل الاقتصادى فوق المتوسط ..... (مصر - الصين - باكستان - المكسيك)

## اكتب المصطلح الجغرافى

3

- ١) قارة تتكون من عدة جزر بين المحيط الهادى والمحيط الهندى.
- ٢) إقليم مناخى يتعرض لعواصف مدارية مثل عواصف التيفون.
- ٣) إقليم مناخى يقع في العروض المعتدلة غرب معظم القارات بين دائرتى عرض ٣٠° و ٤٥° شمالاً وجنوباً.
- ٤) سهول فيضية تمتد في أوروبا من المحيط الأطلنطى غرباً حتى جبال أوران شرقاً.
- ٥) إقليم مناخى تتنوع فيه الحياة النباتية.
- ٦) مجموعة تتبع السلالة القوقازية ويتنمى لها العرب.

01200028345



## 4 ضع علامة صح أمام العبارة الصحيحة وعلامة خطأ أمام العبارة الخاطئة مع التصويب

- (١) أعلى هضاب العالم هضبة الدكن وتقع في وسط آسيا.
- (٢) تنتشر سهول صحراء كلهاري غرب قارة أفريقيا.
- (٣) تمتد البحيرات العظمى في كل من الولايات المتحدة والمكسيك.
- (٤) تشابه تضاريس قارة أستراليا مع تضاريس قارة أفريقيا.
- (٥) أصغر هضاب قارة أمريكا الجنوبية هضبة بتاجونيا.
- (٦) تقسيم السلالات البشرية يعتمد على أسس جوهريّة.
- (٧) يعدّ الزنوج صغار القامة من السلالات النقية التي تعيش في صحراء التندرا.
- (٨) ترتفع نسبة فئة صغار السن في الدول المتقدمة وتنخفض في الدول النامية.
- (٩) تعد البرازيل أكبر دول العالم سكاناً.

## 5 بم تفسر ...

- (١) تسمية هضبة التبت بسقف العالم.
- (٢) قلة أهمية أنهار سهول سيبيريا شتاء.
- (٣) تدرج حشائش السافانا في الطول.
- (٤) تعتبر حشائش السافانا حديقة حيوان طبيعية.
- (٥) نمو الغابات الموسمية.
- (٦) تسمية الغابات النفضية بهذا الاسم.
- (٧) تنوع الحياة النباتية في الإقليم الجبلي.
- (٨) امتداد جميع الأقاليم المناخية في قارة آسيا.
- (٩) نشأة السلالات البشرية المختلفة.
- (١٠) تواجد الزنوج في الأمريكتين.
- (١١) اعتماد تواجد شعب بالكامل من سلالة واحدة.
- (١٢) قلة تركّز السكان وسط قارة آسيا.
- (١٣) قلة السكان في حوض الكونغو أو حوض الأمازون.
- (١٤) تلعب الصناعة دوراً سياسياً في توزيع سكان أوروبا.
- (١٥) ازدهار منطقة البحيرات العظمى في الولايات المتحدة بالسكان.
- (١٦) ارتفاع نسبة التعليم في مصر إلى ٦٥٪ من السكان.
- (١٧) انخفاض الدخل القومي في معظم دول قارة أفريقيا.
- (١٨) دول الخليج العربي من الدول ذات الدخل الاقتصادي المرتفع.

## 6 ما النتائج المترتبة على ...

- (١) وقوع القارة القطبية الجنوبية (أنتاركتيكا) أقصى جنوب الكرة الأرضية.
- (٢) اقتراب حافات الجبال وهضاب من سواحل قارة أفريقيا.
- (٣) ارتفاع درجة الحرارة وسقوط الأمطار طوال العام في حوض الأمازون.
- (٤) انصهار السلالات واختلاط الصفات الطبيعية التي تميز كل سلالة عن الأخرى.
- (٥) خصوبة التربة في جزيرة جنة.

01200028345



www.facebook.com/EL.Sulttan

السلطان

- ٦) تقدم الخدمات الصحية والتعليمية في الدول المتقدمة.  
 ٧) ارتفاع نسبة فئة صغار السن في الدول النامية.  
 ٨) اهتمام مصر بالتعليم في مراحل المختلفة ومجالات نمو الامية.

## 7 ما العلاقة بين ...

- ١) جبال الحجاز الكبير، والسهول الساحلية.  
 ٢) المناخ، وتوزيع السكان في قارة آسيا.  
 ٣) النبات الطبيعي، وتوزيع سكان قارة أستراليا.  
 ٤) تقدم الدول، والزيادة الطبيعية.  
 ٥) الحروب والكوارث، ومعدل الوفيات.  
 ٦) عدد الأطباء، والرعاية الطبية.  
 ٧) النشاط الصناعي، والدخل المرتفع.

## 8 دلل على صحة العبارات الآتية

- ١) تتعدد المنايع النيلية الإفريقية.  
 ٢) تتعدد خصائص السهول الفيضية في قارة أمريكا الشمالية.  
 ٣) تتشابه تضاريس قارة أمريكا الشمالية مع تضاريس قارة أمريكا الجنوبية.  
 ٤) يوجد عدة عوامل مؤثرة في المناخ.  
 ٥) يوجد في الوقت الحاضر بعض السلالات النقية في المجتمعات البدائية.  
 ٦) تتعدد السلالات البشرية الولايات المتحدة الأمريكية.

## 9 ماذا يحدث إذا ...

- ١) انخفضت فئة صغار السن في الدول النامية.  
 ٢) قامت الدول الإفريقية بالاستفادة من ثرواتها المعدنية والزراعية في التصنيع.  
 ٣) قامت الدول بإزالة الغابات والحشائش.

## 10 اذكر مصبات الأنهار الآتية

- ١) نهر النولجا ؟  
 ٢) الأورينوكو ؟  
 ٣) السند ؟  
 ٤) نهر الراين ؟  
 ٥) مري ودارلنج ؟  
 ٦) نهر نلسن ؟

## 11 اذكر نوع النبات الطبيعي الذي ينمو في الأقاليم الآتية

- ١) إقليم غرب أوروبا ؟  
 ٢) الإقليم الموسمي ؟  
 ٣) إقليم البحر المتوسط ؟  
 ٤) الإقليم الاستوائي.  
 ٥) الإقليم الصيني.  
 ٦) إقليم التندرا.

01200028345



## 12 ما المقصود بالمصطلحات الآتية

- (١) الدول الجزرية.
- (٢) حوض النهر.
- (٣) إقليم مناخي.
- (٤) هجرة غير شرعية.
- (٥) ديموجرافيا.
- (٦) قوة العمل.

## ثانياً التاريخ

## 13 صوب ما تحته خط

- (١) حاربت الدولة الصفوية الدولة المملوكية في معركة مر دابق والريدانية.
- (٢) أصبحت مصر ولاية عثمانية عام ١٥١٧م بعد هزيمة المماليك في موقعة مرج دابق.
- (٣) أصبح محمد بك أبو الدهب الحاكم الفعلي لمصر عام ١٧٦٨م.
- (٤) تحالف على بك الكبير مع محمد بك أبو الدهب حاكم جنوب الشام.
- (٥) توقفت تجارة مصر الخارجية بعد موقعة مرج دابق ١٧٩٨م.
- (٦) كان نابليون بنوى الإقامة في مصر وتحويلها إلى مستعمرة فرنسية.
- (٧) نفى محمد علي السيد عمر مكرم إلى بورسعيد عام ١٨٠٩م.
- (٨) أدرك أحمد عرابي أهمية المساندة الشعبية في مواجهة الغزو البريطاني لمصر عام ١٨٠٧م.
- (٩) اهتم سعيد باشا بالزراعة فقام بتطهير ترعة النوبارية.
- (١٠) أرسلت بريطانيا بعثة كيف إلى مصر في عهد الحديو توفيق.
- (١١) اضطر رياض ياشا للاستقالة لإصرار مجلس النواب على مناقشة الميزانية.
- (١٢) عقد ممثلو الدول العظمى مؤتمر مونتر للنظر في المسألة المصرية.
- (١٣) نزلت القوات البريطانية إلى شواطئ مدينة بورسعيد في يوليو ١٨٨٢م.
- (١٤) اهتم محمد فريد بالتعليم وتبلور هذا في إنشاء الجامعة المصرية عام ١٩٠٨م.
- (١٥) عارض مصطفى كامل مشروع مد امتياز قناة السويس أربعين عاماً.
- (١٦) ألغيت الحماية البريطانية على مصر وفقاً لمعاهدة ١٩٣٦م.
- (١٧) استقالت وزارة مصطفى النحاس بعد الإنذار البريطاني في ١٩٢٤م.
- (١٨) تم إلغاء دستور ١٩٢٣م في مصر في ظل وزارة سعد زغلول.
- (١٩) أكد دستور ١٩٣٠م على أن الأمة مصدر السلطات.
- (٢٠) نصت معاهدة ١٩٣٦م على مساعدة بريطانيا لمصر في الانضمام إلى مجلس الأمن.

## 14 اختر الإجابة الصحيحة مما بين الأقواس

- (١) كان الفلاح المصري يزرع الأرض في عهد العثمانيين عن طريق .....
- (٢) بدأ نابليون فرض الضرائب بعد .....
- (٣) تم عزل الوالي العثماني ..... عام ١٨٠٥م.
- (٤) أنشأ محمد علي المطبعة الأميرية في .....
- (الاحتكار) - (الائتزام) - (المشاركة) - (الانتفاع)
- (ثورة القاهرة الأولى) - (أبو قير البحرية) - (موقعة إمامية) - (أبو قير البرية)
- (خورشيد) - (محمد علي) - (إسماعيل) - (توفيق)
- (الإسكندرية) - (بولاق) - (أسوان) - (رشيد)

01200028345



- ٥) أنشأ محمد علي مدرسة عسكرية في مدينة .....  
 ٦) أصبحت لمصر مكانة دولية بعد حروب محمد علي في .....  
 ٧) عقد سعيد باشا عام ١٨٦٢م أول قرض أجنبي مع أحد البنوك .....  
 ٨) أنشأ إسماعيل ..... للفصل في القضايا المدنية ما بين المصريين والأجانب.  
 (المحاكم المختلطة - المحاكم القنصلية - المحاكم الشرعية - المحاكم التجارية)  
 ٩) قدم أحمد عرابي مطالب الأمة للخديو توفيق ومنها إسقاط حكومة .....  
 (نوبار باشا - عثمان رفقي - رياض باشا - إسماعيل صدقي)  
 ١٠) صدر قرار بإلغاء الامتيازات الأجنبية ١٩٣٧م في مؤتمر .....  
 ١١) نفى سعد زغلول للمرة الثانية إلى جزيرة .....  
 (الصلح - الأستانة - مونترال - العريش)  
 (سيلان - مالطة - سيشل - صقلية)

## 15 بم تفسر ...

- ١) تعرض دولة المماليك إلى أزمات سياسية.  
 ٢) اتجه العثمانيون لغزو الشام ١٥١٦م.  
 ٣) تأخر الصناعة في مصر أبان الحكم العثماني.  
 ٤) إنشاء محمد علي مدرسة عسكرية في أسوان.  
 ٥) قيام الثورة العربية ١٨٨١م.  
 ٦) إرسال إنجلترا وفرنسا المذكرة المشتركة الثانية للخديو توفيق.  
 ٧) تغيرت السياسة الاقتصادية لمصر عام ١٨٨٢م.  
 ٨) حدوث خلاف أثناء الحرب العالمية الثانية بين الحكومتين المصرية والبريطانية.

## 16 ما النتائج المترتبة على ...

- ١) حصار الأسطول الإنجليزي لشواطئ مصر الشمالية عام ١٧٩٨م.  
 ٢) ثورة القاهرة الأولى عام ١٧٩٨م.  
 ٣) ضم محمد علي للسودان.  
 ٤) حروب محمد علي في اليونان.  
 ٥) حادثة دنشواي ١٩٠٦م.  
 ٦) صدور تصريح ٢٨ فبراير ١٩٢٢م.

## 17 دلل على صحة العبارات الآتية

- ١) تعتبر النتائج العلمية للحملة الفرنسية أعظم نتائج الحملة.  
 ٢) أثرت سياسة محمد علي الاقتصادية على بعض الطبقات الاجتماعية.  
 ٣) كافح مصطفى كامل ضد الاحتلال البريطاني خارجياً.  
 ٤) الامتياز الثاني لحفر قناة السويس لم يكن في صالح المصريين.

## 18 اكتب ما تشير إليه العبارات الآتية

- ١) موقعة حربية تحولت بعدها مصر إلى لولاية عثمانية ١٥١٧م.
- ٢) أول مواجهة عسكرية بين المماليك وجنود الحملة الفرنسية في مصر.
- ٣) رفضتها الحكومة البريطانية وطلبت استسلام جنود الحملة الفرنسية كأسرى حرب.
- ٤) حملة أرسلتها بريطانيا لاحتلال مصر ١٨٠٧م.
- ٥) ديوان تم إلغاؤه في عهد سعيد باشا.
- ٦) كان بمثابة خزانة فرعية للخزانة المصرية وتم إنشاءه في عهد الخديو إسماعيل.
- ٧) وزارة مصرية أطلق عليها وزارة الثورة.

## 19 لمن تنسب الأعمال الآتية

- ١) هزم الصفويين في موقعة جالديران عام ١٥١٤م.
- ٢) أصدر اللائحة الجديدة عام ١٨٣٧م.
- ٣) الشروع في إنشاء أول خط حديدي بين القاهرة والإسكندرية عام ١٨٥٢م.
- ٤) أرسل حملات عسكرية إلى أفريقيا لمنع تجارة الرقيق.
- ٥) ألغى دستور عام ١٩٢٣م.
- ٦) قام بسحب الجيش المصري من السودان عام ١٩٢٤م.



01200028345

